

L'inclusion



des élèves allophones

Atelier

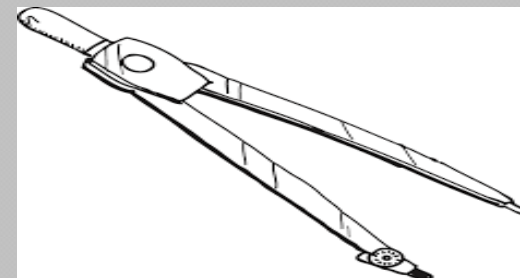
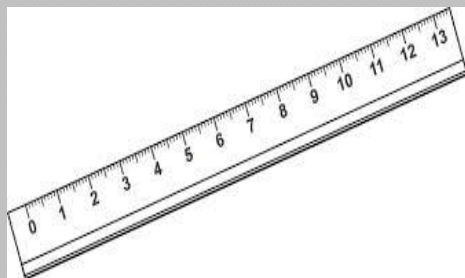
Formation des directeurs REP



Stéphanie PAUL

18.11.16

Mise en situation

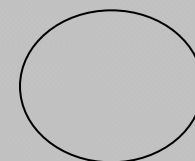



Να σχεδιάσετε ορθογώνιο παραλληλόγραμμο $ABΓΔ$ όπου AB έχει μήκος 6 εκ. και $BΓ$ έχει μήκος 4 εκ.

Να φέρετε τις διαγώνιες του $ABΓΔ$, οι οποίες τέμνονται στο σημείο O .

Κατασκευάστε έναν κύκλο με κέντρο O και ακτίνα OB .

Affichage dans la classe



ορθογώνιο παραλληλόγραμμο

κύκλος

dikdörtgen

çember

прямоугольник

круг


المستطيل

دائرة

長方形

サークル

Différentes écritures



ПРЯМОУГОЛЬНИ

прямоугольник

прямоугольник

[primugulnik]

Lectures faciles

